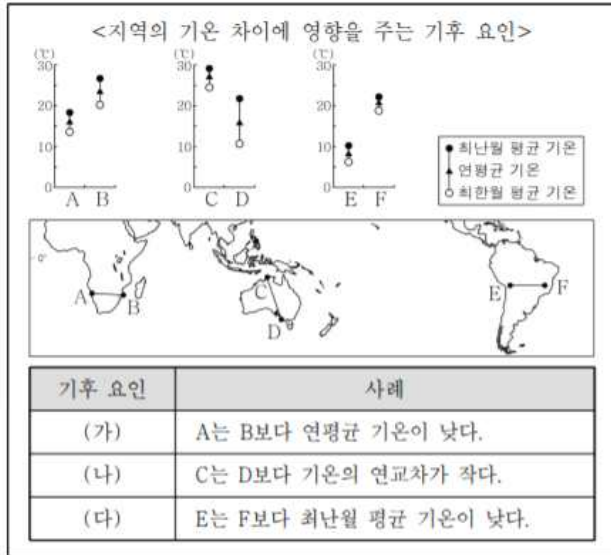


세계지리 5개년 기출_2021학년도 6평까지_기후

하늘하늘한 제작

>>2020년 4월 3번<<

3. 다음 자료의 (가)~(다)에 들어갈 기후 요인으로 가장 적절한 것은? [3점]



- | | | |
|---------|-------|-------|
| (가) | (나) | (다) |
| ① 위도 | 해류 | 해발 고도 |
| ② 해류 | 위도 | 해발 고도 |
| ③ 해류 | 해발 고도 | 위도 |
| ④ 해발 고도 | 해류 | 위도 |
| ⑤ 해발 고도 | 위도 | 해류 |

>>2020년 4월 15번<<

15. 그림은 두 기후 지역의 전통 가옥 모습이다. (가), (나) 기후 지역에 대한 설명으로 옳은 것은?



- ① (가)는 연중 적도 수렴대의 영향을 받는다.
- ② (나)는 기온의 연교차가 기온의 일교차보다 크다.
- ③ (나)는 (가)보다 수목의 평균 키가 크다.
- ④ (가)는 이동식 경작, (나)는 유목이 활발하다.
- ⑤ (가), (나) 모두 비옥한 흑색의 체르노젱이 발달한다.

>>2020년 4월 16번<<

16 다음 자료는 어느 지역의 관광 안내 홍보물이다. 이 지역에 대한 설명으로 옳은 것은? [3점]


- ○○ 여행사 -

계절	기후와 여행
봄	우리나라의 봄과 비슷하여 여행하기 좋음. 5~6월에 꽃이 많이 필.
여름	기온이 높게 올라가는 날도 있지만 그늘에 들어가면 서늘함. 밤 10시까지도 해가 남아 있어 여행하기 좋음.
가을	숲과 공원의 나뭇잎이 붉게 물들고 거리에 낙엽이 쌓여 있음. 여행하면서 풍경 사진 찍기에 좋음.
겨울	기온이 0℃ 이하로 내려가는 날이 많지 않고, 비가 올 때가 많음. 여행하려면 보온에 유의해야 함.

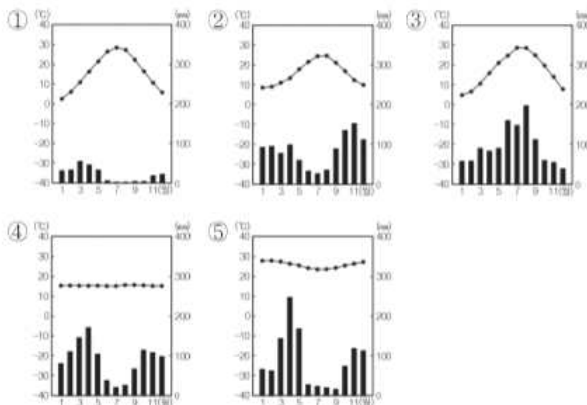
- ① 연 강수량보다 연 증발량이 많다.
- ② 활동층 아래에 영구 동토층이 있다.
- ③ 일 년 내내 편서풍의 영향을 받는다.
- ④ 적도와 북회귀선 사이에 위치해 있다.
- ⑤ 강한 일사로 매일 대류성 강수가 내린다.

>>2020년 5월 4번<<

4 다음 자료는 세계 음식을 소개하는 방송 프로그램의 내용 중 일부이다. (가) 지역의 기후 그래프로 옳은 것은? [3점]



토마토 소스 파스타는 (가) 지역에서 유래 되었다고 합니다. 온대 기후가 나타나는 이 지역은 우리나라와 달리, 여름에는 고온 건조하여 토마토와 올리브가 재배되고 겨울에는 온난 습윤하여 밀이 재배됩니다. 이 작물들을 재료로 하여 토마토 소스 파스타가 만들어졌습니다.



>>2020년 5월 9번<<

9. 다음 자료의 밑줄 친 '이곳'의 기후 특징으로 옳은 것은? [3점]



○○ 영화는 아기 사자가 동물들의 왕이 되기까지의 모험을 다루었다. 감독은 아프리카 케냐의 초원에서 작품의 영감을 얻었다고 한다. 이곳은 나무가 드문드문 분포하고 키가 큰 풀이 자라는 넓은 초원으로 사자, 기린, 얼룩말 등의 다양한 야생 동물이 살고 있다. 영화에서도 이러한 경관이 생생하게 담겨 볼거리를 더해 준다.

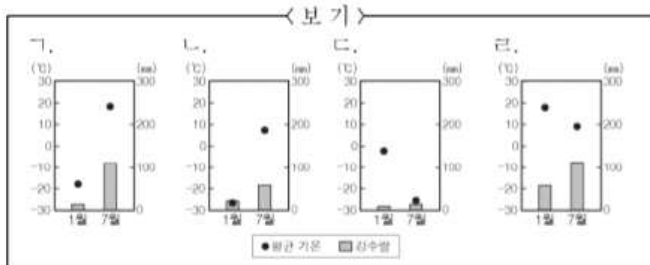
- ① 연중 볼과 같은 날씨가 나타난다.
- ② 기온의 연교차가 일교차보다 크다.
- ③ 건기와 우기가 뚜렷하게 나타난다.
- ④ 거의 매일 대류성 강수가 발생한다.
- ⑤ 편서풍의 영향을 받아 연중 습윤하다.

>>2020년 5월 16번<<

16. (가), (나) 지역의 기후 그래프를 <보기>에서 고른 것은? [3점]

(가) 침엽수림과 포드졸 토양이 넓게 분포한다. 침엽수림을 활용한 목재·제지 공업이 발달하였고, 추위에 잘 견디는 밀, 호밀, 감자 등의 작물을 재배한다.

(나) 나무가 자라기 어려우며 짧은 여름 동안 작은 풀과 이끼류 등이 자란다. 농업이 거의 불가능하여 주민들은 순록, 바다 표범을 사냥하거나 물고기를 잡으며 살고 있다.





- (가) (나) (가) (나) (가) (나)
- ① 가 나 ② 가 다 ③ 나 다
- ④ 라 나 ⑤ 라 다

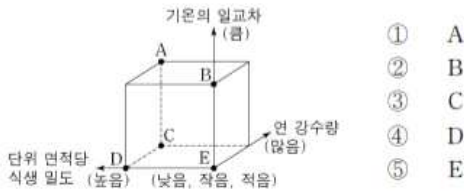
>>2021학년도 6월 2번<<

2. 다음 자료는 두 지역의 전통적인 주민 생활을 설명한 것이다.
 (가) 지역에 대한 (나) 지역의 상대적 특징을 그림의 A~E에서
 고른 것은? [3점]

○ 베트남의 수도 (가)에서는 기후와 풍토에 맞게 얇은 비단이나 나일론과 같은 천으로 만들어 통풍이 잘 되는 옷을 입는다. 전통 음식으로는 쌀로 만든 국수인 '짜'가 있다.

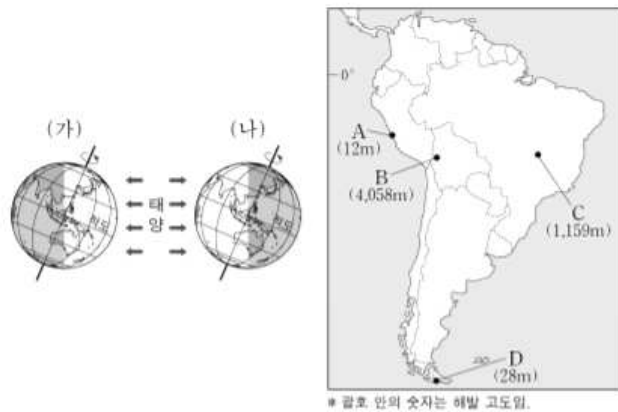
○ 사우디아라비아의 수도 (나)에서는 뜨거운 햇볕으로부터 피부를 보호하기 위해 남성들은 흰색 옷에 머리 두건을 착용하며, 여성들은 검은색 옷에 검은색 스카프를 머리에 두른다. 즐겨 먹는 음식으로는 말린 대추야자가 있다.



>>2021학년도 6월 3번<<

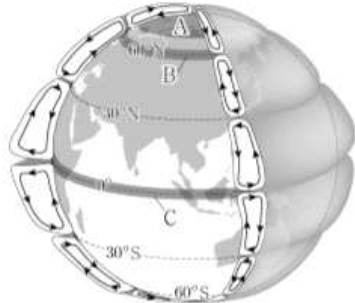
3. (가), (나) 시기 A~D 지역에 관한 설명으로 옳지 않은 것은?
 (단, (가), (나) 시기는 각각 1월, 7월 중 하나임.) [3점]



- ① (가) 시기 평균 기온은 B가 C보다 낮다.
- ② (나) 시기 강수량은 A가 C보다 적다.
- ③ (나) 시기 밤 길이는 D가 A보다 길다.
- ④ (가), (나) 시기 간 평균 기온의 차이는 B가 D보다 작다.
- ⑤ (가), (나) 시기 간 강수량 차이는 C가 D보다 크다.

>>2021학년도 6월 9번<<

9. 다음은 대기 대순환 모식도이다. A~C 위도대에 나타나는 현상에 대한 옳은 설명만을 <보기>에서 고른 것은?



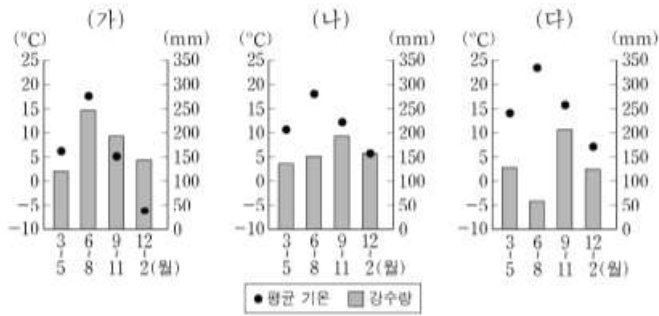
< 보 기 >

ㄱ. A에서는 연중 편서풍이 탁월하게 분다.
 ㄴ. B에서는 아열대 고압대가 형성된다.
 ㄷ. C에서는 A에서보다 단위 면적당 연평균 일사량이 많다.
 ㄹ. C에서는 B에서보다 대류성 강수 발생 일수가 많다.

- ① ㄱ, ㄴ ② ㄱ, ㄷ ③ ㄴ, ㄷ ④ ㄴ, ㄹ ⑤ ㄷ, ㄹ

>>2021학년도 6월 11번<<

11. 기후 그래프 (가)~(다)에 해당하는 지역을 지도의 A~C에서 고른 것은? [3점]



- | | (가) | (나) | (다) |
|---|-----|-----|-----|
| ① | A | B | C |
| ② | A | C | B |
| ③ | B | A | C |
| ④ | C | A | B |
| ⑤ | C | B | A |

정답: 2,3,3,2,3,1,2,3,5,4