

제 2 교시

수학 영역

5지선다형

1. $2^{\sqrt{3}} \times 2^{2-\sqrt{3}}$ 의 값은? [2점]

- ① $\sqrt{2}$ ② 2 ③ $2\sqrt{2}$ ④ 4 ⑤ $4\sqrt{2}$

$$2^{\sqrt{3}} \times 2^{2-\sqrt{3}} = 2^{\sqrt{3}+2-\sqrt{3}} = 2^2 = 4$$

2. 함수 $f(x)$ 가

$$f'(x) = 3x^2 - 2x, \quad f(1) = 1$$

을 만족시킬 때, $f(2)$ 의 값은? [2점]

- ① 1 ② 2 ③ 3 ④ 4 ⑤ 5

$$f(x) = x^3 - x^2 + C$$

$$f(1) = 1 \quad \therefore C = 1$$

$$f(2) = 8 - 4 + 1 = 5$$

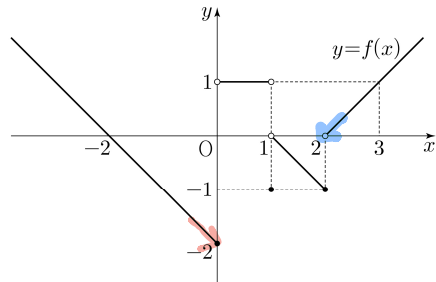
3. $\pi < \theta < \frac{3}{2}\pi$ 인 θ 에 대하여 $\tan \theta = \frac{12}{5}$ 일 때, $\sin \theta + \cos \theta$ 의 값은? [3점]

- ① $-\frac{17}{13}$ ② $-\frac{7}{13}$ ③ 0 ④ $\frac{7}{13}$ ⑤ $\frac{17}{13}$

$\tan \theta = \frac{12}{5}$ $\Rightarrow \sin \theta = -\frac{12}{13}, \cos \theta = -\frac{5}{13}$

$$\therefore \sin \theta + \cos \theta = -\frac{17}{13}$$

4. 함수 $y = f(x)$ 의 그래프가 그림과 같다.



$\lim_{x \rightarrow 0^-} f(x) + \lim_{x \rightarrow 2^+} f(x)$ 의 값은? [3점]

- ① -2 ② -1 ③ 0 ④ 1 ⑤ 2

$$\therefore (-2) + 0 = -2$$

5. 다항함수 $f(x)$ 에 대하여 함수 $g(x)$ 를

$$g(x) = (x^2 + 3)f(x)$$

라 하자. $f(1) = 2$, $f'(1) = 1$ 일 때, $g'(1)$ 의 값은? [3점]

- ① 6 ② 7 8 ④ 9 ⑤ 10

$$g'(x) = 2x f'(x) + (x^2 + 3)f'(x)$$

$$g'(1) = 2f'(1) + 4f'(1) = 2 \times 2 + 4 \times 1 = 4 + 4 = 8$$

6. 곡선 $y = 3x^2 - x$ 와 직선 $y = 5x$ 로 둘러싸인 부분의 넓이는?

[3점]

- ① 1 ② 2 ③ 3 4 ⑤ 5

$$3x^2 - 6x = 3x(x - 2)$$

$$\therefore \frac{3}{6}(2-0)^3 = \frac{1}{2} \times 8 = 4$$

7. 첫째항이 2인 등차수열 $\{a_n\}$ 의 첫째항부터 제 n 항까지의 합을 S_n 이라 하자.

$$a_6 = 2(S_3 - S_2) \quad a_6 = 2a_3$$

일 때, S_{10} 의 값은? [3점]

- ① 100 110 ③ 120 ④ 130 ⑤ 140

$$2 + 5d = 2(2 + 2d)$$

$$2 + 5d = 4 + 4d \quad d = 2, \quad S_{10} = \frac{10(4 + 18)}{2} = 10 \times 11 = 110$$

8. 함수

$$f(x) = \begin{cases} -2x+6 & (x < a) \\ 2x-a & (x \geq a) \end{cases}$$

에 대하여 함수 $\{f(x)\}^2$ 이 실수 전체의 집합에서 연속이 되도록 하는 모든 상수 a 의 값의 합은? [3점]

- ① 2 ② 4 ③ 6 8 ⑤ 10

$$(-2a+6)^2 = a^2$$

$$4a^2 - 24a + 36 = a^2$$

$$3a^2 - 24a + 36 = 0$$

$$a^2 - 8a + 12 = 0$$

$$(a-2)(a-6) = 0 \Rightarrow a=2, a=6 \quad \therefore 2+6=8$$

9. 수열 $\{a_n\}$ 이 모든 자연수 n 에 대하여

$$a_{n+1} = \begin{cases} \frac{1}{a_n} & (n \text{이 홀수인 경우}) \\ 8a_n & (n \text{이 짝수인 경우}) \end{cases}$$

이고 $a_{12} = \frac{1}{2}$ 일 때, $a_1 + a_4$ 의 값은? [4점]

- ① $\frac{3}{4}$ ② $\frac{9}{4}$ ③ $\frac{5}{2}$ ④ $\frac{17}{4}$ $\frac{9}{2}$

$a_{12} \rightarrow a_{11} \rightarrow a_{10} \rightarrow a_9 \rightarrow a_8$
 $\boxed{\frac{1}{2}} \quad 2 \quad \frac{1}{4} \quad 4 \quad \boxed{\frac{1}{2}}$ 반복
 $a_8 \rightarrow a_7 \rightarrow a_6 \rightarrow a_5$
 $a_4 \rightarrow a_3 \rightarrow a_2 \rightarrow a_1$

10. $n \geq 2$ 인 자연수 n 에 대하여 두 곡선

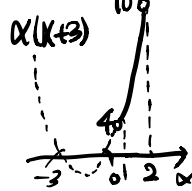
$$y = \log_n x, \quad y = -\log_n(x+3) + 1$$

이 만나는 점의 x 좌표가 1보다 크고 2보다 작도록 하는 모든 n 의 값의 합은? [4점]

- ① 30 35 ③ 40 ④ 45 ⑤ 50

$$\log_n x = -\log_n(x+3) + 1$$

$$\log_n x(x+3) = 1 \quad \therefore x(x+3) = n$$



$$4 < n < 10$$

$\Rightarrow 5 \sim 9$ 까지의 합

$$\therefore 5+6+7+8+9 = 35$$

11. 닫힌구간 $[0, 1]$ 에서 연속인 함수 $f(x)$ 가

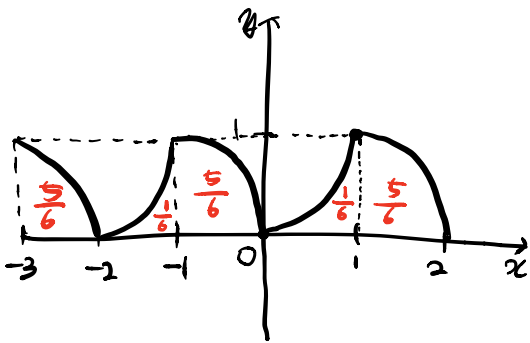
$$f(0) = 0, \quad f(1) = 1, \quad \int_0^1 f(x) dx = \frac{1}{6}$$

을 만족시킨다. 실수 전체의 집합에서 정의된 함수 $g(x)$ 가 다음 조건을 만족시킬 때, $\int_{-3}^2 g(x) dx$ 의 값은? [4점]

(가) $g(x) = \begin{cases} -f(x+1)+1 & (-1 < x < 0) \\ f(x) & (0 \leq x \leq 1) \end{cases}$
 (나) 모든 실수 x 에 대하여 $g(x+2) = g(x)$ 이다.

- ① $\frac{5}{2}$ ② $\frac{17}{6}$ ③ $\frac{19}{6}$ ④ $\frac{7}{2}$ ⑤ $\frac{23}{6}$

* 대칭해법 잡기



$$\int_{-3}^2 g(x) dx = 1 + 1 + \frac{5}{6} = \frac{17}{6}$$

* 수직등이

$$\int_0^1 f(x) dx = \frac{1}{6}, \quad \int_{-1}^0 [-f(x+1)+1] dx = -\int_0^1 f(x) dx + 1 = 1 - \frac{1}{6} = \frac{5}{6}$$

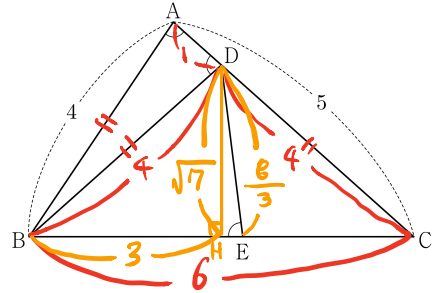
$$\int_{-3}^2 g(x) dx = \int_{-2}^{-1} f(x) dx + \int_{-1}^0 [-f(x+1)+1] dx + \int_0^1 f(x) dx = 1 + \frac{5}{6} = \frac{17}{6}$$

12. 그림과 같이 $\overline{AB} = 4$, $\overline{AC} = 5$ 이고 $\cos(\angle BAC) = \frac{1}{8}$ 인

삼각형 ABC가 있다. 선분 AC 위의 점 D와 선분 BC 위의 점 E에 대하여

$$\angle BAC = \angle BDA = \angle BED$$

일 때, 선분 DE의 길이는? [4점]



- ① $\frac{7}{3}$ ② $\frac{5}{2}$ ③ $\frac{8}{3}$ ④ $\frac{17}{6}$ ⑤ 3

$\angle BAC = \angle BDA$ 이므로 $\overline{BD} = \overline{AB} = 4$, $\cos(\angle BAC) = \cos(\angle BDA) = \frac{1}{8}$

$\therefore \overline{DA} = 2 \times \frac{1}{2} = 1$ 이므로 $\overline{DC} = 4$ $\therefore \overline{BD} = \overline{DC}$ 이므로 $\triangle BDC$ 는 이등변삼각형

$\triangle ABC$ 에 코사인법칙에 의해 $\overline{BC}^2 = 25 + 16 - 2 \times 5 \times 4 \times \frac{1}{8} = 36$

$\therefore \overline{BC} = 6$, 점 D에서 BC에 내린 수선의 발을 H라 하면

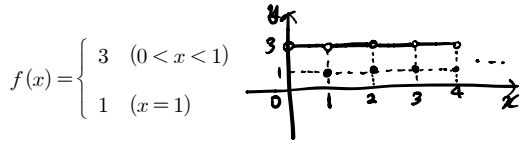
$\triangle BDH$ 는 직각삼각형이므로 이등변삼각형의 수선은 수직이등분선

$\Rightarrow \overline{BH} = 3$, 대는 피타고라스 정리에 의해 $\overline{DH} = \sqrt{16-9} = \sqrt{7}$

$\cos(\angle BAC) = \cos(\angle BED) = \frac{1}{8}$ 이므로 $\sin(\angle BED) = \frac{3\sqrt{7}}{8}$

$$\therefore \overline{DE} = \frac{\sqrt{7}}{\frac{3\sqrt{7}}{8}} = \frac{8}{3}$$

13. 실수 전체의 집합에서 정의된 함수 $f(x)$ 가 구간 $(0, 1]$ 에서



이고, 모든 실수 x 에 대하여 $f(x+1) = f(x)$ 를 만족시킨다.

$\sum_{k=1}^{20} \frac{k \times f(\sqrt{k})}{3}$ 의 값은? [4점]

- ① 150 ② 160 ③ 170 ④ 180 190

\sqrt{k} 가 정수인 경우는 $f(\sqrt{k}) = 1$ 나머지는 모두 3

$$\begin{aligned} \Rightarrow \sum_{k=1}^{20} \frac{k \times f(\sqrt{k})}{3} &= \frac{1}{3} + 2 + 3 + \frac{4}{3} + 5 + 6 + 7 + 8 + \frac{9}{3} + 10 + 11 \\ &\quad + 12 + 13 + 14 + 15 + \frac{16}{3} + 17 + 18 + 19 + 20 \\ &= \frac{20 \cdot 21}{2} - 1 - 4 - 9 - 16 + \frac{30}{3} \\ &= 210 - 30 + 10 \\ &= 190 \end{aligned}$$

14. 두 양수 p, q 와 함수 $f(x) = x^3 - 3x^2 - 9x - 12$ 에 대하여 실수 전체의 집합에서 연속인 함수 $g(x)$ 가 다음 조건을 만족시킬 때, $p+q$ 의 값은? [4점]

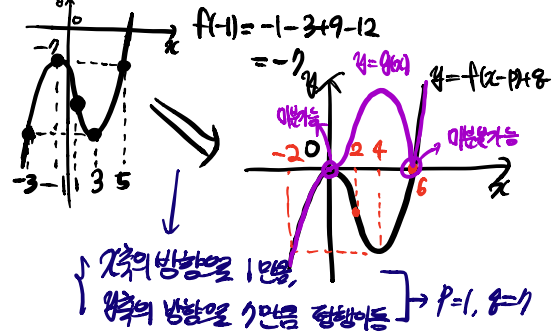
- (가) 모든 실수 x 에 대하여 $xg(x) = |xf(x-p) + qx|$ 이다.
 (나) 함수 $g(x)$ 가 $x=a$ 에서 미분가능하지 않은 실수 a 의 개수는 1이다.

$$g(x) = \begin{cases} f(x-p) + q & (x > 0) \\ -f(x-p) + q & (x < 0) \end{cases}$$

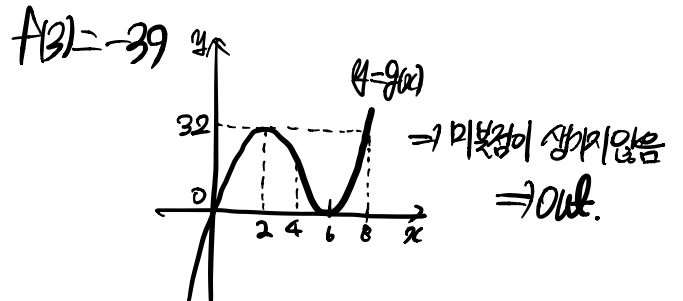
$f(x)$ 는 미분이 가능한 함수이므로

- ① 6 ② 7 8 ④ 9 ⑤ 10 (+ - 변점)

$$f'(x) = 3x^2 - 6x - 9 = 3(x+1)(x-3)$$



* 미분가능 안되는가?



15. $-1 \leq t \leq 1$ 인 실수 t 에 대하여 x 에 대한 방정식

$$\left(\sin \frac{\pi x}{2} - t\right) \left(\cos \frac{\pi x}{2} - t\right) = 0$$

↖ SIN과 COS의 값이 4

의 실근 중에서 집합 $\{x | 0 \leq x < 4\}$ 에 속하는 가장 작은 값을 $\alpha(t)$, 가장 큰 값을 $\beta(t)$ 라 하자. <보기>에서 옳은 것만을 있는 대로 고른 것은? [4점]

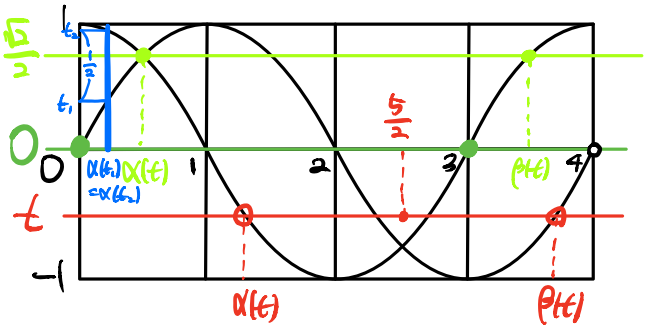
<보 기>

㉠. $-1 \leq t < 0$ 인 모든 실수 t 에 대하여 $\alpha(t) + \beta(t) = 5$ 이다. **○**

㉡. $\{t | \beta(t) - \alpha(t) = \beta(0) - \alpha(0)\} = \left\{t \mid 0 \leq t \leq \frac{\sqrt{2}}{2}\right\}$ **○**

㉢. $\alpha(t_1) = \alpha(t_2)$ 인 두 실수 t_1, t_2 에 대하여 $t_2 - t_1 = \frac{1}{2}$ 이면 $t_1 \times t_2 = \frac{1}{3}$ 이다. **✕**

- ① ㉠, ② ㉡, ③ ㉠, ㉢, ④ ㉡, ㉢, ⑤ ㉠, ㉡, ㉢



㉠. $\alpha(t) + \beta(t) = 2 \times \frac{5}{2} = 5$ (참)

㉡. 대칭, 삼대각형이 동일 $\Rightarrow 0 \sim \frac{\sqrt{2}}{2}$ 까지 모두
 일정한 경우 $\frac{\sqrt{2}}{2}$ 이후 \cos 가 \sin 보다 $\alpha(t)$ 가 앞서는
 경우 $\frac{\sqrt{2}}{2}$ 까지 $\Rightarrow \left\{t \mid 0 \leq t \leq \frac{\sqrt{2}}{2}\right\}$ (참)

㉢. $\sin \alpha(t_1) = \sin \alpha(t_2) = t_1$
 $\cos \alpha(t_2) = \cos \alpha(t_1) = t_2$
 $\Rightarrow \sin^2 \alpha(t_1) + \cos^2 \alpha(t_1) = t_1^2 + t_2^2 = 1$
 $t_2 - t_1 = \frac{1}{2} \Rightarrow t_2^2 - 2t_1 t_2 + t_1^2 = \frac{1}{4}$
 $\therefore 2t_1 t_2 = \frac{3}{4} \therefore t_1 t_2 = \frac{3}{8}$ (거짓)

단답형

16. $\log_4 \frac{2}{3} + \log_4 24$ 의 값을 구하시오. [3점]

2

$$\log_4 \frac{2}{3} \times 24 = \log_4 16 = 2$$

17. 함수 $f(x) = x^3 - 3x + 12$ 가 $x = a$ 에서 극소일 때, $a + f(a)$ 의 값을 구하시오. (단, a 는 상수이다.) [3점]

11

$$f'(x) = 3x^2 - 3 = 3(x+1)(x-1)$$

$x = 1$ 이므로 $- \rightarrow + \therefore a = 1$

$$1 - 3 + 12 = 10 \therefore a + f(a) = 1 + 10 = 11$$

18. 모든 항이 양수인 등비수열 $\{a_n\}$ 에 대하여

$$a_2 = 36, \quad a_7 = \frac{1}{3}a_5 \Rightarrow r^2 = \frac{1}{3}$$

일 때, a_6 의 값을 구하시오. [3점]

4

$$a_6 = a_2 r^4 = 36 \times \frac{1}{9} = 4$$

19. 수직선 위를 움직이는 점 P의 시간 $t(t \geq 0)$ 에서의 속도 $v(t)$ 가

$$v(t) = 3t^2 - 4t + k$$

$$\rightarrow \text{위치 } x(t) = t^3 - 2t^2 + kt$$

이다. 시간 $t=0$ 에서 점 P의 위치는 0이고, 시간 $t=1$ 에서 점 P의 위치는 -3 이다. 시간 $t=1$ 에서 $t=3$ 까지 점 P의 위치의 변화량을 구하시오. (단, k 는 상수이다.) [3점]

$$1 - 2 + k = -3 \quad \therefore k = -2$$

6

$$\begin{aligned} \int_1^3 (3t^2 - 4t - 2) dt &= 2(9) - 2(11) \\ &= 27 - 18 - 6 - 1 + 2 + 2 \\ &= 6 \end{aligned}$$

20. 실수 a 와 함수 $f(x) = x^3 - 12x^2 + 45x + 3$ 에 대하여 함수

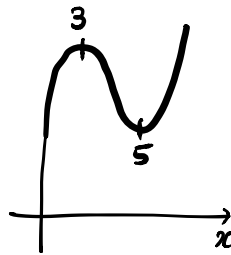
$$g(x) = \int_a^x \{f(x) - f(t)\} \times \{f(t)\}^4 dt \quad \begin{aligned} &\rightarrow f'(x) = 3x^2 - 24x + 45 \\ &= 3(x-3)(x-5) \end{aligned}$$

가 오직 하나의 극값을 갖도록 하는 모든 a 의 값의 합을 구하시오. [4점]

8

$$\begin{aligned} g(x) &= \int_a^x \{f(x) - f(t)\} \times \{f(t)\}^4 dt \\ &= f(x) \int_a^x \{f(t)\}^4 dt - \int_a^x \{f(t)\}^5 dt \end{aligned}$$

$$g'(x) = f'(x) \int_a^x \{f(t)\}^4 dt + \{f(x)\}^5 - \{f(x)\}^5 = f'(x) \int_a^x \{f(t)\}^4 dt$$




\downarrow
 2차함수의 모양
 \Rightarrow 3과 5를 쓰는 게 맞음
 $\Rightarrow a=3$ or $a=5$
 $\therefore 3+5=8$

21. 다음 조건을 만족시키는 최고차항의 계수가 1인 이차함수 $f(x)$ 가 존재하도록 하는 모든 자연수 n 의 값의 합을 구하시오.

[4점]

(가) x 에 대한 방정식 $(x^n - 64)f(x) = 0$ 은 서로 다른 두 실근을 갖고, 각각의 실근은 중근이다.
 (나) 함수 $f(x)$ 의 최솟값은 음의 정수이다.



⇒ n 이 홀수이면 $(x-\Delta)(x+\Delta)$ 형태

$x^2 + \square$ 형태를 써 \square 가 음의 정수여야 됨

⇒ 따라서 $(x-\Delta)(x+\Delta)$ 형태에 Δ 가 짝수이거나 무제곱계수여야 함

⇒ $x^n = 64 \sim n=2$ 일때 $x = \pm 8 \Rightarrow f(x) = (x-8)(x+8)$
 $= 2^6$ $n=4$ 일때 $x = \pm 2^{\frac{6}{2}} \Rightarrow f(x) = (x-2^{\frac{6}{2}})(x+2^{\frac{6}{2}})$
 $n=6$ 일때 $x = \pm 2 \Rightarrow f(x) = (x-2)(x+2)$
 $n=12$ 일때 $x = \pm 2^{\frac{6}{4}} \Rightarrow f(x) = (x-2^{\frac{6}{4}})(x+2^{\frac{6}{4}})$

$\therefore 2+4+6+12 = 24$

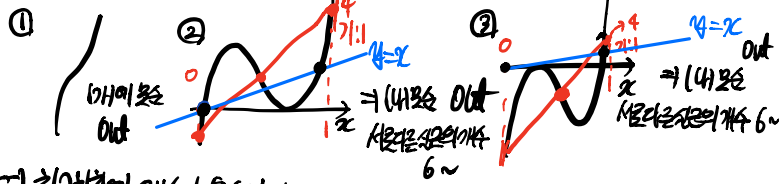
22. 삼차함수 $f(x)$ 가 다음 조건을 만족시킨다.

(가) 방정식 $f(x) = 0$ 의 서로 다른 실근의 개수는 2이다.
 (나) 방정식 $f(x-f(x)) = 0$ 의 서로 다른 실근의 개수는 3이다.

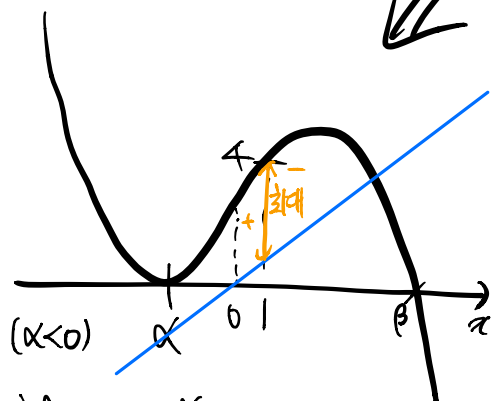
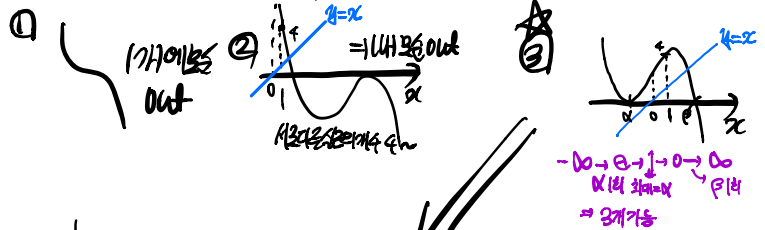
$f(1) = 4, f'(1) = 1, f''(0) > 1$ 일 때, $f(0) = \frac{q}{p}$ 이다. $p+q$ 의 값을 구하시오. (단, p 와 q 는 서로소인 자연수이다.) [4점]

61

i) 최댓값의 개수가 양수인 경우



ii) 최댓값의 개수가 음수인 경우



⇒ $f(x) - x \rightarrow f(x) - 1 = 0 \quad x=1 \Rightarrow$ 차이 $f-1=3 \Rightarrow x=-3$

⇒ $f(x) = a(x+3)^2(x-\beta) \quad (a < 0), \quad f'(x) = 2a(x+3)(x-\beta) + a(x+3)^2$

$f(1) = 8a(1-\beta) + 16a = 1, \quad f'(1) = 16a(1-\beta) = 4.$

⇒ $2+16a=1 \quad \therefore a = -\frac{1}{16}, \quad \beta-1=4 \quad \therefore \beta=5, \quad f(x) = -\frac{1}{16}(x+3)^2(x-5)$

$\therefore f(0) = \frac{45}{16}$

$\therefore p+q = 16+45 = 61$

* 확인 사항

- 답안지의 해당란에 필요한 내용을 정확히 기입(표기)했는지 확인하시오.
- 이어서, 「선택과목(확률과 통계)」, 문제가 제시되오니, 자신이 선택한 과목인지 확인하시오.

제 2 교시

수학 영역(확률과 통계)

5지선다형

23. 다항식 $(2x+1)^5$ 의 전개식에서 x^3 의 계수는? [2점]

- ① 20 ② 40 ③ 60 ④ 80 ⑤ 100

$${}^5C_3 \times 2^3 = 10 \times 8 = 80$$

24. 어느 동아리의 학생 20명을 대상으로 진로활동 A와 진로활동 B에 대한 선호도를 조사하였다. 이 조사에 참여한 학생은 진로활동 A와 진로활동 B 중 하나를 선택하였고, 각각의 진로활동을 선택한 학생 수는 다음과 같다.

(단위: 명)

구분	진로활동 A	진로활동 B	합계
1학년	7	5	12
2학년	4	4	8
합계	11	9	20

이 조사에 참여한 학생 20명 중에서 임의로 선택한 한 명이 진로활동 B를 선택한 학생일 때, 이 학생이 1학년일 확률은?

[3점]

- ① $\frac{1}{2}$ ② $\frac{5}{9}$ ③ $\frac{3}{5}$ ④ $\frac{7}{11}$ ⑤ $\frac{2}{3}$

2

수학 영역(확률과 통계)

25. 숫자 1, 2, 3, 4, 5 중에서 중복을 허락하여 4개를 택해 일렬로 나열하여 만들 수 있는 모든 네 자리의 자연수 중에서 임의로 하나의 수를 선택할 때, 선택한 수가 3500 보다 클 확률은?
[3점]

- ① $\frac{9}{25}$ ② $\frac{2}{5}$ ③ $\frac{11}{25}$ ④ $\frac{12}{25}$ ⑤ $\frac{13}{25}$

$$\begin{aligned} 35___ &\Rightarrow 5^2 \\ 4_____ &\Rightarrow 5^3 \\ 5_____ &\Rightarrow 5^3 \end{aligned} \quad \frac{5^2 + 5^3 + 5^3}{5^4} = \frac{1 + 5 + 5}{25} = \frac{11}{25}$$

26. 빨간색 카드 4장, 파란색 카드 2장, 노란색 카드 1장이 있다. 이 7장의 카드를 세 명의 학생에게 남김없이 나누어 줄 때, 3가지 색의 카드를 각각 한 장 이상 받는 학생이 있도록 나누어 주는 경우의 수는? (단, 같은 색 카드끼리는 서로 구별하지 않고, 카드를 받지 못하는 학생이 있을 수 있다.) [3점]

- ① 78 ② 84 ③ 90 ④ 96 ⑤ 102

A B C

빨간색
↓
A or B or C (⇒ ×3)

파란색
↕
3 × 2 × 1 = 3 × 2 × 1 = 6
↓
A, B, C 선택

노란색
↕
3 × 3 × 3 = 3 × 3 × 3 = 27
↓
각각 1씩

→ 3 × 2 × 1 × 3 = 3 × 5 × 3 × 3 = 135
↓
= 3 × 10 × 3 = 90

27. 주사위 2개와 동전 4개를 동시에 던질 때, 나오는 주사위의 눈의 수의 곱과 앞면이 나오는 동전의 개수가 같을 확률은?

$4 \leq \square \leq 4$ [3점]

- ① $\frac{3}{64}$
 ② $\frac{5}{96}$
 ③ $\frac{11}{192}$
 ④ $\frac{1}{16}$
 ⑤ $\frac{13}{192}$

$$\begin{array}{l}
 (1,1) \Rightarrow {}_4C_1 = 4 \\
 (1,2) \Rightarrow {}_4C_2 = 6 \\
 (2,1) \Rightarrow {}_4C_2 = 6 \\
 (1,3) \Rightarrow {}_4C_3 = 4 \\
 (3,1) \Rightarrow {}_4C_3 = 4 \\
 (1,4) \Rightarrow {}_4C_4 = 1 \\
 (4,1) \Rightarrow {}_4C_4 = 1 \\
 (2,2) \Rightarrow {}_4C_4 = 1
 \end{array}
 \left. \vphantom{\begin{array}{l} \\ \\ \\ \\ \\ \\ \\ \\ \end{array}} \right\} \Rightarrow \frac{27}{6^2 \times 2^4} = \frac{3}{64}$$


28. 한 개의 주사위를 한 번 던져 나온 눈의 수가 3 이하이면 나온 눈의 수를 점수로 얻고, 나온 눈의 수가 4 이상이면 0점을 얻는다. 이 주사위를 네 번 던져 나온 눈의 수를 차례로 a, b, c, d 라 할 때, 얻은 네 점수의 합이 4가 되는 모든 순서쌍 (a, b, c, d) 의 개수는? [4점]

- ① 187
 ② 190
 ③ 193
 ④ 196
 ⑤ 199

$$\begin{aligned}
 (2, 2, 0, 0) &\Rightarrow 1 \times 1 \times 3 \times 3 \times 6 = 54 \\
 (1, 3, 0, 0) &\Rightarrow 1 \times 1 \times 3 \times 3 \times 1 \times 2 = 108 \\
 (1, 1, 1, 1) &\Rightarrow 1 \times 1 \times 1 \times 1 = 1 \\
 (1, 2, 1, 0) &\Rightarrow 1 \times 1 \times 3 \times 1 \times 2 = 36 \\
 \therefore 54 + 108 + 1 + 36 &= 199
 \end{aligned}$$

단답형

29. 1부터 6까지의 자연수가 하나씩 적혀 있는 6개의 의자가 있다. 이 6개의 의자를 일정한 간격을 두고 원형으로 배열할 때, 서로 이웃한 2개의 의자에 적혀 있는 수의 곱이 12가 되지 않도록 배열하는 경우의 수를 구하시오.
(단, 회전하여 일치하는 것은 같은 것으로 본다.) [4점]

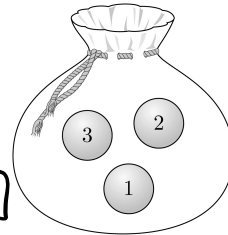


48

여사건 \Rightarrow 1이 2가 되는 경우 / 전체 $5! = 120$

① 2&6
 $2 \times 4! = 48$
 (2&6이 1이냐)
 ② 3&4
 $2 \times 4! = 48$
 (3&4가 1이냐)
 ③ 2&6 & 3&4
 $2 \times 2 \times 3 \times 2 = 24$
 (2&6) (3&4) 각각 2자리
 $\therefore 120 - 24 = 96$

30. 숫자 1, 2, 3이 하나씩 적혀 있는 3개의 공이 들어 있는 주머니가 있다. 이 주머니에서 임의로 한 개의 공을 꺼내어 공에 적혀 있는 수를 확인한 후 다시 넣는 시행을 한다. 이 시행을 5번 반복하여 확인한 5개의 수의 곱이 6의 배수일 확률이 $\frac{q}{p}$ 일 때, $p+q$ 의 값을 구하시오.
(단, p 와 q 는 서로소인 자연수이다.) [4점]



47

여사건 $\Rightarrow 1 - \square$

① 2가 없을 때 $\left(\frac{2}{3}\right)^5$ ② 3이 없을 때 $\left(\frac{2}{3}\right)^5$ ③ 2와 3이 모두 없을 때 $\left(\frac{1}{3}\right)^5$

$$\therefore \left(\frac{2}{3}\right)^5 + \left(\frac{2}{3}\right)^5 - \left(\frac{1}{3}\right)^5 = \frac{63}{243} = \frac{7}{27}$$

$$\therefore 1 - \frac{7}{27} = \frac{20}{27} \quad \therefore p=27, q=20$$

$$\therefore p+q = 27+20 = 47$$

* 확인 사항

- 답안지의 해당란에 필요한 내용을 정확히 기입(표기)했는지 확인하시오.
- 이어서, 「선택과목(미적분)」 문제가 제시되오니, 자신이 선택한 과목인지 확인하시오.

제 2 교시

수학 영역(미적분)

5지선다형

23. $\lim_{n \rightarrow \infty} \frac{1}{\sqrt{n^2+n+1}-n}$ 의 값은? [2점]

- ① 1 ② 2 ③ 3 ④ 4 ⑤ 5

$$\lim_{n \rightarrow \infty} \frac{\sqrt{n^2+n+1} + n}{(\sqrt{n^2+n+1}-n)(\sqrt{n^2+n+1}+n)} = \lim_{n \rightarrow \infty} \frac{\sqrt{n^2+n+1} + n}{n+1} = \frac{1+1}{1} = 2$$

24. 매개변수 t 로 나타내어진 곡선

$$x = e^t + \cos t, \quad y = \sin t$$

에서 $t=0$ 일 때, $\frac{dy}{dx}$ 의 값은? [3점]

- ① $\frac{1}{2}$ ② 1 ③ $\frac{3}{2}$ ④ 2 ⑤ $\frac{5}{2}$

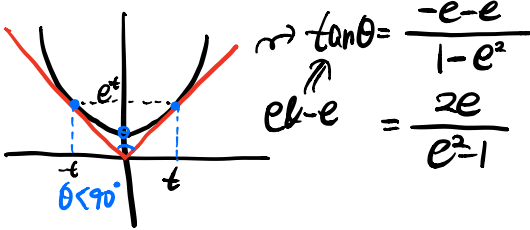
$$\frac{\frac{dy}{dt}}{\frac{dx}{dt}} = \frac{\cos t}{e^t - \sin t} \Big|_{t=0} \Rightarrow \frac{dy}{dx} = \frac{1}{1-0} = 1$$

2

수학 영역(미적분)

25. 원점에서 곡선 $y = e^{|x|}$ 에 그은 두 접선이 이루는 예각의 크기를 θ 라 할 때, $\tan\theta$ 의 값은? [3점]

- ① $\frac{e}{e^2+1}$
- ② $\frac{e}{e^2-1}$
- ③ $\frac{2e}{e^2+1}$
- ④ $\frac{2e}{e^2-1}$
- ⑤ 1



$\frac{e^t}{t} = e^t \Rightarrow t = 1$

(가정 = 미분계수)

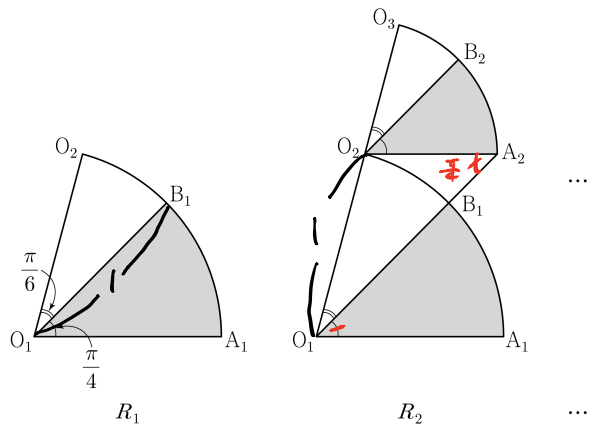
26. 그림과 같이 중심이 O_1 , 반지름의 길이가 1이고 중심각의 크기가 $\frac{5\pi}{12}$ 인 부채꼴 $O_1A_1O_2$ 가 있다. 호 A_1O_2 위에 점 B_1 을

$\angle A_1O_1B_1 = \frac{\pi}{4}$ 가 되도록 잡고, 부채꼴 $O_1A_1B_1$ 에 색칠하여 얻은 그림을 R_1 이라 하자.

그림 R_1 에서 점 O_2 를 지나고 선분 O_1A_1 에 평행한 직선이 직선 O_1B_1 과 만나는 점을 A_2 라 하자. 중심이 O_2 이고 중심각의 크기가 $\frac{5\pi}{12}$ 인 부채꼴 $O_2A_2O_3$ 을 부채꼴 $O_1A_1B_1$ 과 겹치

않도록 그린다. 호 A_2O_3 위에 점 B_2 를 $\angle A_2O_2B_2 = \frac{\pi}{4}$ 가 되도록 잡고, 부채꼴 $O_2A_2B_2$ 에 색칠하여 얻은 그림을 R_2 라 하자.

이와 같은 과정을 계속하여 n 번째 얻은 그림 R_n 에 색칠되어 있는 부분의 넓이를 S_n 이라 할 때, $\lim_{n \rightarrow \infty} S_n$ 의 값은? [3점]



- ① $\frac{3\pi}{16}$
- ② $\frac{7\pi}{32}$
- ③ $\frac{\pi}{4}$
- ④ $\frac{9\pi}{32}$
- ⑤ $\frac{5\pi}{16}$

첫째항: $\frac{1}{2} \times \frac{\pi}{4} = \frac{\pi}{8}$

$\triangle O_1A_2O_2 \Rightarrow$ 사각형. $\overline{O_2A_2} \parallel \overline{O_1A_1} \Rightarrow$ 엇각동등 ($\angle A_1O_1A_2 = \angle O_1A_2O_2$)

$\Rightarrow \frac{1}{\sin \frac{\pi}{4}} = \frac{\overline{O_2A_2}}{\sin \frac{\pi}{6}} \quad \therefore \overline{O_2A_2} = \frac{\sqrt{2}}{2} \quad \therefore 1 \rightarrow \frac{\sqrt{2}}{2}$ 공비

$\therefore \frac{\frac{\pi}{8}}{1 - (\frac{\sqrt{2}}{2})^2} = \frac{\frac{\pi}{8}}{\frac{1}{2}} = \frac{\pi}{4}$

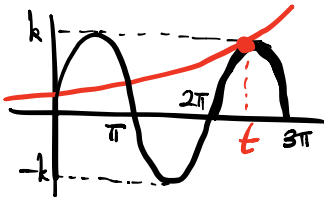
27. 두 함수

$$f(x) = e^x, \quad g(x) = k \sin x$$

에 대하여 방정식 $f(x) = g(x)$ 의 서로 다른 양의 실근의 개수가 3일 때, 양수 k 의 값은? [3점]

차이점한다

- ① $\sqrt{2}e^{\frac{3\pi}{2}}$ ② $\sqrt{2}e^{\frac{7\pi}{4}}$ ③ $\sqrt{2}e^{2\pi}$
- ④ $\sqrt{2}e^{\frac{9\pi}{4}}$ ⑤ $\sqrt{2}e^{\frac{5\pi}{2}}$



중요! $e^t = k \sin t$
 $e^t = k \cos t$
 $\Rightarrow \sin t = \cos t$
 $2\pi < t < \frac{5}{2}\pi$
 $\Rightarrow t = \frac{9}{4}\pi$

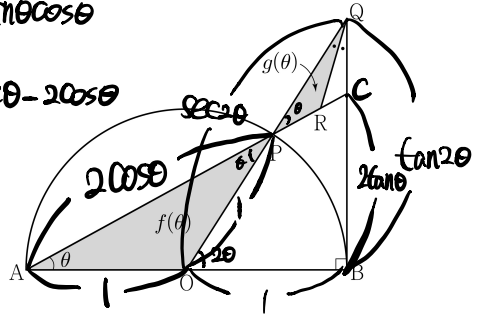
$$\therefore e^{\frac{9}{4}\pi} = k \times \frac{\sqrt{2}}{2}, \quad k = \sqrt{2}e^{\frac{9}{4}\pi}$$

28. 그림과 같이 길이가 2인 선분 AB를 지름으로 하는 반원의 호 AB 위에 점 P가 있다. 선분 AB의 중점을 O라 할 때, 점 B를 지나고 선분 AB에 수직인 직선이 직선 OP와 만나는 점을 Q라 하고, $\angle OQB$ 의 이등분선이 직선 AP와 만나는 점을 R라 하자. $\angle OAP = \theta$ 일 때, 삼각형 OAP의 넓이를 $f(\theta)$, 삼각형 PQR의 넓이를 $g(\theta)$ 라 하자.

$\lim_{\theta \rightarrow 0^+} \frac{g(\theta)}{\theta^4 \times f(\theta)}$ 의 값은? (단, $0 < \theta < \frac{\pi}{4}$) [4점]

$$f(\theta) = \sin \theta \cos \theta$$

$$PC = 2 \sec \theta - 2 \cos \theta$$



- ① 2 ② $\frac{5}{2}$ ③ 3 ④ $\frac{7}{2}$ ⑤ 4

* 각의 이등분선 $\rightarrow \frac{1}{2}(2\theta) = \theta \rightarrow \frac{2 \tan \theta}{1 - \tan^2 \theta} - 2 \tan \theta = 2 \tan \theta \left(\frac{\tan^2 \theta}{1 - \tan^2 \theta} \right)$

$$\overline{QP} : \overline{QC} = (\sec \theta - 1) : (\tan \theta - 2 \cos \theta)$$

$$\Rightarrow \overline{PR} = \frac{\sec \theta - 1}{(\sec \theta - 1) + (\tan \theta - 2 \cos \theta)} \times (2 \sec \theta - 2 \cos \theta) \rightarrow \frac{2 \tan^2 \theta}{\cos \theta (1 + \cos \theta) (1 - \cos \theta)}$$

$$g(\theta) = \frac{1}{2} \times \overline{QP} \times \overline{PR} \times \sin \theta \rightarrow \frac{2\theta^2}{2\theta^2 + 2\theta^3} \times 4 \times \frac{1}{2} \theta^2 = \frac{2\theta^4}{\theta^2(1+\theta)} = 2\theta^2$$

$$\lim_{\theta \rightarrow 0^+} \frac{g(\theta)}{\theta^4 \times f(\theta)} = \lim_{\theta \rightarrow 0^+} \frac{\frac{1}{2} \times 2\theta^2 \times 2\theta^2 \times \theta}{\theta^4 \times \theta} = 2$$

단답형

29. $t > 2e$ 인 실수 t 에 대하여 함수 $f(x) = t(\ln x)^2 - x^2$ 이 $x = k$ 에서 극대일 때, 실수 k 의 값을 $g(t)$ 라 하면 $g(t)$ 는 미분가능한 함수이다. $g(\alpha) = e^2$ 인 실수 α 에 대하여 $\alpha \times \{g'(\alpha)\}^2 = \frac{q}{p}$ 일 때, $p+q$ 의 값을 구하시오.
(단, p 와 q 는 서로소인 자연수이다.) [4점]

$$f'(x) = \frac{2t \ln x}{x} - 2x \quad \boxed{1)}$$

$$f'(k) = \frac{2t \ln k}{k} - 2k = 0$$

$$\frac{2x \ln g(x)}{g(x)} - 2g(x) = 0 \quad \therefore 2x \times 2 = 2e^2$$

$$\therefore x = \frac{e^2}{2}$$

$$t \ln g(t) = \{g(t)\}^2$$

$$\ln g(t) + \frac{t g'(t)}{g(t)} = 2g(t)g'(t)$$

$$\ln e^2 + \frac{\frac{e^2}{2} g'(\frac{e^2}{2})}{e^2} = 2 \times e^2 \times g'(\frac{e^2}{2})$$

$$2 + \frac{e^2}{2} g'(\frac{e^2}{2}) = 2e^2 g'(\frac{e^2}{2})$$

$$\frac{3}{2} e^2 g'(\frac{e^2}{2}) = 2 \quad \therefore g'(\frac{e^2}{2}) = \frac{4}{3e^2}$$

$$\therefore \alpha \times \{g'(\alpha)\}^2 = \frac{e^4}{2} \times \frac{16}{9e^4} = \frac{8}{9}$$

$$\therefore p=9, q=8 \quad \therefore p+q=17$$

30. $t > \frac{1}{2} \ln 2$ 인 실수 t 에 대하여 곡선 $y = \ln(1 + e^{2x} - e^{-2x})$ 과 직선 $y = x + t$ 가 만나는 서로 다른 두 점 사이의 거리를 $f(t)$ 라 할 때, $f'(\ln 2) = \frac{q}{p} \sqrt{2}$ 이다. $p+q$ 의 값을 구하시오.
(단, p 와 q 는 서로소인 자연수이다.) [4점]

$$x+t = \ln(1 + e^{2x} - e^{-2x}) \quad \boxed{11)}$$

$$e^{x+t} = 1 + e^{2x} - e^{-2x}$$

$$e^{2x} - e^x e^x - e^{-2x} + 1 = 0$$

$$(e^x - e^{-x})(e^x - e^x e^{-x}) = 0$$

$$\rightarrow x = -t, \quad \beta = \ln(e^t - e^{-t})$$

$$\Rightarrow \beta - x = t - (-t) = 2t \Rightarrow \sqrt{2} \times |\beta - x| = f(t)$$

$$\therefore f(t) = \sqrt{2} \{ \ln(e^t - e^{-t}) + t \}$$

$$f'(t) = \sqrt{2} \left(\frac{e^t + e^{-t}}{e^t - e^{-t}} + 1 \right)$$

$$\therefore f'(\ln 2) = \sqrt{2} \left(\frac{2 + \frac{1}{2}}{2 - \frac{1}{2}} + 1 \right)$$

$$= \sqrt{2} \left(\frac{\frac{5}{2}}{\frac{3}{2}} + 1 \right) = \sqrt{2} \left(\frac{8}{3} \right) = \frac{8}{3} \sqrt{2}$$

$$\therefore p=3, q=8$$

$$\therefore p+q = 3+8 = 11$$

* 확인 사항

- 답안지의 해당란에 필요한 내용을 정확히 기입(표기)했는지 확인하시오.
- 이어서, 「선택과목(기하)」 문제가 제시되오니, 자신이 선택한 과목인지 확인하시오.

제 2 교시

수학 영역(기하)

5지선다형

23. 두 벡터 $\vec{a} = (k+3, 3k-1)$ 과 $\vec{b} = (1, 1)$ 이 서로 평행할 때, 실수 k 의 값은? [2점]

- ① 1 ② 2 ③ 3 ④ 4 ⑤ 5

$$k+3 = 3k-1$$

$$\therefore k=2$$

24. 타원 $\frac{x^2}{8} + \frac{y^2}{4} = 1$ 위의 점 $(2, \sqrt{2})$ 에서의 접선의 x 절편은? [3점]

- ① 3 ② $\frac{13}{4}$ ③ $\frac{7}{2}$ ④ $\frac{15}{4}$ ⑤ 4

$$\frac{2x}{8} + \frac{\sqrt{2}y}{4} = 1$$

$$\frac{2}{8}x = 1 \quad \therefore x=4$$

2

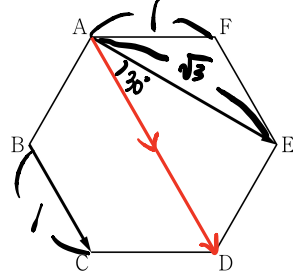
수학 영역(기하)

25. 좌표평면 위의 두 점 $A(1, 2)$, $B(-3, 5)$ 에 대하여

$|\vec{OP} - \vec{OA}| = |\vec{AB}| = 5$ \rightarrow 반지름 5 원의 중심이
 를 만족시키는 점 P가 나타내는 도형의 길이는? $\rightarrow 10\pi$
 (단, O는 원점이다.) [3점]

- ① 10π ② 12π ③ 14π ④ 16π ⑤ 18π

26. 그림과 같이 한 변의 길이가 1인 정육각형 ABCDEF에서
 $|\vec{AE} + \vec{BC}|$ 의 값은? [3점]

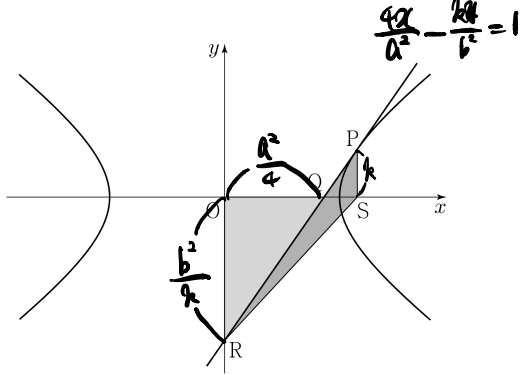


- ① $\sqrt{6}$ ② $\sqrt{7}$ ③ $2\sqrt{2}$ ④ 3 ⑤ $\sqrt{10}$

$$\begin{aligned}
 |\vec{AE} + \vec{BC}|^2 &= |\vec{AE}|^2 + |\vec{BC}|^2 + 2|\vec{AE}| \cdot |\vec{BC}| \cos \frac{\pi}{6} \\
 &= 3 + 1 + 2\sqrt{3} \times \frac{\sqrt{3}}{2} \\
 &= 3 + 1 + 3 = 7 \\
 \therefore |\vec{AE} + \vec{BC}| &= \sqrt{7}
 \end{aligned}$$

27. 그림과 같이 쌍곡선 $\frac{x^2}{a^2} - \frac{y^2}{b^2} = 1$ 위의 점 $P(4, k) (k > 0)$

에서의 접선이 x 축과 만나는 점을 Q , y 축과 만나는 점을 R 라 하자. 점 $S(4, 0)$ 에 대하여 삼각형 QOR 의 넓이를 A_1 , 삼각형 PRS 의 넓이를 A_2 라 하자. $A_1 : A_2 = 9 : 4$ 일 때, 이 쌍곡선의 주축의 길이는? (단, O 는 원점이고, a 와 b 는 상수이다.) [3점]



- ① $2\sqrt{10}$ ② $2\sqrt{11}$ ③ $4\sqrt{3}$ ④ $2\sqrt{13}$ ⑤ $2\sqrt{14}$

$$A_1 = \frac{1}{2} \times \frac{a^2}{4} \times \frac{b^2}{k} = \frac{a^2 b^2}{8k}$$

$$A_2 = \frac{1}{2} \times 4 \times k = 2k$$

$$\frac{a^2 b^2}{8k} : 2k = 9 : 4 \quad 9k = \frac{a^2 b^2}{4k}$$

$$36k^2 = a^2 b^2 \quad (4, k) \Rightarrow \frac{16}{a^2} - \frac{k^2}{b^2} = 1$$

$$\frac{576}{a^2} - 36 = a^2 \quad k^2 = \frac{16b^2}{a^2} - b^2$$

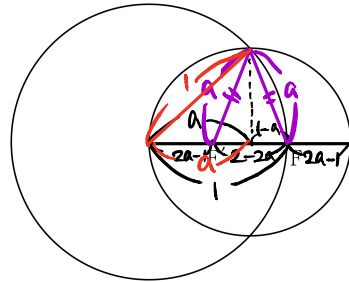
$$a^4 + 36a^2 - 576$$

$$(a^2 - 12)(a^2 + 48) = 0 \quad \therefore a^2 = 12$$

$$\therefore a = 2\sqrt{3} \Rightarrow \text{주축의 길이 } 2a = 4\sqrt{3}$$

28. 두 초점이 F, F' 이고 장축의 길이가 $2a$ 인 타원이 있다. 이 타원의 한 꼭짓점을 중심으로 하고 반지름의 길이가 1인 원이 이 타원의 서로 다른 두 꼭짓점과 한 초점을 지날 때, 상수 a 의 값은? [4점]

- ① $\frac{\sqrt{2}}{2}$ ② $\frac{\sqrt{6}-1}{2}$ ③ $\sqrt{3}-1$
④ $2\sqrt{2}-2$ ⑤ $\frac{\sqrt{3}}{2}$



$$(\sqrt{1-a^2})^2 + (1-a)^2 = a^2$$

$$1-a^2 + 1-2a+a^2 = a^2$$

$$a^2 + 2a - 2 = 0$$

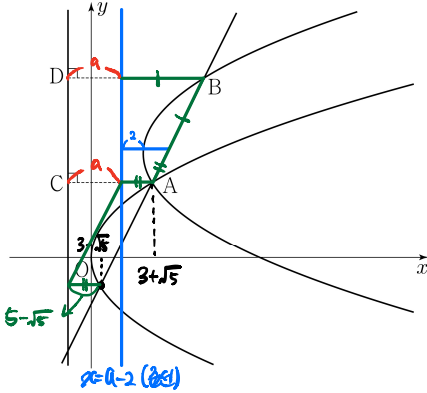
$$a = -1 \pm \sqrt{1+2}$$

$$= \sqrt{3}-1 \quad (\because a > 0)$$

단답형

29. 포물선 $y^2=8x$ 와 직선 $y=2x-4$ 가 만나는 점 중 제1사분면 위에 있는 점을 A라 하자. 양수 a 에 대하여 $y^2=4-2x$ 포물선 $(y-2a)^2=8(x-a)$ 가 점 A를 지날 때, 직선 $y=2x-4$ 와 포물선 $(y-2a)^2=8(x-a)$ 가 만나는 점 중 A가 아닌 점을 B라 하자. 두 점 A, B에서 직선 $x=-2$ 에 내린 수선의 발을 각각 C, D라 할 때, $\overline{AC}+\overline{BD}-\overline{AB}=k$ 이다. k^2 의 값을 구하시오.

$8x=4x^2-16x+16 \quad x^2-6x+4=0$ [4점]
 $4x^2-24x+16=0 \quad x=3\pm\sqrt{5}$



80

$\overline{AC}+\overline{BD}-\overline{AB}=2a=k$

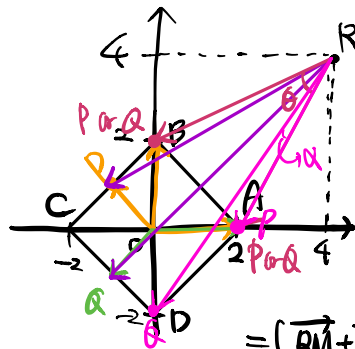
$5+\sqrt{5}=5-\sqrt{5}+a \quad \therefore a=2\sqrt{5}$

$\therefore k=4\sqrt{5} \quad \therefore k^2=80$

30. 좌표평면 위의 네 점 $A(2, 0), B(0, 2), C(-2, 0), D(0, -2)$ 를 꼭짓점으로 하는 정사각형 ABCD의 네 변 위의 두 점 P, Q가 다음 조건을 만족시킨다.

- (가) $(\overline{PQ} \cdot \overline{AB})(\overline{PQ} \cdot \overline{AD})=0 \Rightarrow \overline{PQ} \parallel \overline{AB}, \overline{PQ} \perp \overline{AD} \text{ or } \overline{PQ} \perp \overline{AB}, \overline{PQ} \parallel \overline{AD}$
- (나) $\overline{OA} \cdot \overline{OP} \geq -2$ 이고 $\overline{OB} \cdot \overline{OP} \geq 0$ 이다. ✓
- (다) $\overline{OA} \cdot \overline{OQ} \geq -2$ 이고 $\overline{OB} \cdot \overline{OQ} \leq 0$ 이다. ✓

점 $R(4, 4)$ 에 대하여 $\overline{RP} \cdot \overline{RQ}$ 의 최댓값을 M , 최솟값을 m 이라 할 때, $M+m$ 의 값을 구하시오. (단, O는 원점이다.) [4점]



48

\overline{PQ} 의 중점은 M

$\Rightarrow \overline{RP} \cdot \overline{RQ}$

$= (\overline{RM} + \overline{MP}) \cdot (\overline{RM} + \overline{MQ})$ 역벡터항
 $= |\overline{RM}|^2 + (\overline{MP} + \overline{MQ}) \cdot \overline{RM} + \overline{MP} \cdot \overline{MQ}$
 $= |\overline{RM}|^2 - |\overline{MP}|^2 = |\overline{AM}|^2 - 2$ $\left(\begin{matrix} \text{최대} \rightarrow \text{최대 } M(1,-1) \\ \text{최소} \rightarrow \text{최소 } M(1,1) \end{matrix} \right)$

$\cos \alpha = \frac{20+52-8}{2 \cdot 2\sqrt{5} \cdot 2\sqrt{3}} = \frac{8}{\sqrt{65}}$

최대 $\overline{RP} \cdot \overline{RQ} = 2\sqrt{5} \times 2\sqrt{3} \times \frac{8}{\sqrt{65}} = 32$

$\cos \beta = \frac{20+20-8}{2 \cdot 2\sqrt{5} \cdot 2\sqrt{5}} = \frac{4}{5}$

최소 $\overline{RP} \cdot \overline{RQ} = 2\sqrt{5} \cdot 2\sqrt{5} \cdot \frac{4}{5} = 16$

$\therefore 32+16=48$

* 확인 사항

○ 답안지의 해당란에 필요한 내용을 정확히 기입(표기)했는지 확인하시오.