

제 4 교시


사회탐구 영역(동아시아사)

성명		수험번호				3			제 ( ) 선택
----	--	------	--	--	--	---	--	--	----------

1. (가) 문화가 남긴 유물로 옳은 것은?

< (가) 문화 조사 보고서 >

- 조사 목적: 농경과 목축이 시작된 시대 창장강 하류 유역의 생활 모습을 알아본다.
- 조사 내용
  - 나무로 만든 고상 가옥
  - 뼈로 만든 화살촉, 갈돌과 갈판 등 간석기
  - 도토리, 볍씨, 벼의 잔존물
  - 돼지, 원숭이 등의 사체 흔적



2. (가)에 들어갈 내용으로 가장 적절한 것은?

동아시아사 묻고 답하기

**질문** 중국 역사에는 국명이 한글로 ○이라 표기되는 나라가 많던데, 어떤 나라가 있나요?

**답변** (가)

**답변** 오를 멸망시키고 삼국 시대를 통일한 나라가 있어요.

**답변** 수에 의해 멸망한 남조의 마지막 나라도 ○이었어요.

- ① 송과 전연의 맹약을 맺은 나라가 있어요.
- ② 한 무제의 공격으로 멸망한 나라가 있어요.
- ③ 전국 시대의 분열을 통일한 나라가 있어요.
- ④ 왜의 노국으로부터 조공을 받은 나라가 있어요.
- ⑤ 온조 집단이 한강 유역에서 세운 나라가 있어요.

3. 밑줄 친 '그'에 대한 탐구 활동으로 가장 적절한 것은?

어려서부터 불국도를 그리워하던 그는 사해가 평온하고 변경의 치안도 유지되던 태종 치세에 먼 여행길에 나섰다. 험한 길을 넘으면서 비로소 인도에 이르렀다. ...**(중략)**... 여러 해가 지나서 많은 불상과 불경을 가지고 고국으로 돌아와 태종을 알현하였다. ...**(중략)**... 그가 기억하는 이역(異域)의 모습이 책으로 편찬되었으니, 이를 『대당서역기』라 한다.

- ① 도다이사의 창건 목적을 정리한다.
- ② 대안탑이 세워진 배경을 파악한다.
- ③ 일본에 계율이 전해진 과정을 살펴본다.
- ④ 불국사 3층 석탑의 건축 특징을 알아본다.
- ⑤ 원강 석굴 사원의 대불을 조성한 의도를 조사한다.

4. 밑줄 친 '중원 왕조'에 대한 설명으로 옳은 것만을 <보기>에서 고른 것은? [3점]

태정관에서 신라에 다음과 같은 문서를 보냈다. “바다 건너 중원 왕조에 조공 사신을 보냄에 있어 바람과 파도가 심해져 예상치 못한 일이 일어날까 두렵습니다. 만약 우리 사신의 배가 표류하여 신라에 도착한다면 지체시키거나 길을 가로막지 말고 통과시켜 주십시오.”

- < 보 기 >
- ㄱ. 주변국에 화번공주를 보냈다.
  - ㄴ. 정복지에 도호부를 설치하였다.
  - ㄷ. 살수에서 고구려에 대패하였다.
  - ㄹ. 히미코를 친위왜왕으로 책봉하였다.

- ① ㄱ, ㄴ    ② ㄱ, ㄷ    ③ ㄴ, ㄷ    ④ ㄴ, ㄹ    ⑤ ㄷ, ㄹ

5. 밑줄 친 '오랑캐'에 대한 설명으로 옳은 것은? [3점]

처음에 모문룡이 군사를 이끌고 바다를 건너 가도로 들어가 오랑캐를 섬멸하겠다고 외치자 요동의 많은 백성이 이에 호응하였습니다. 그래서 오랑캐도 그가 후방을 끊을까 의심하여 감히 서쪽으로 향하지 못하였습니다. 그러나 오늘날에는 그가 부귀만 누릴 뿐 싸우려는 뜻이 없어 중원에도 이롭지 못하고 우리나라의 깊은 걱정거리만 되지 않을까 염려됩니다.

- ① 팔기제를 정비하였다.
- ② 수도를 대도로 옮겼다.
- ③ 세키가하라 전투에서 승리하였다.
- ④ 남면관제와 북면관제를 마련하였다.
- ⑤ 동남아시아 등지로 정화의 함대를 파견하였다.

동아시아사

6. (가)에 들어갈 내용으로 가장 적절한 것은?

**동아시아 이주민 실태 조사**

다음 질문에 성실한 답변을 부탁드립니다.

- 이주하기 전에 어디에서 살았나요?  
송화강 유역에 있는 부여에서 살았습니다.
- 이주하게 된 계기가 무엇인가요?  
주몽이 부여에서의 정치적 갈등을 피해 남쪽으로 내려올 때 함께 이주하였습니다.
- 지금 거주하고 있는 지역은 어디인가요?  
압록강 중류 유역의 졸본 지방에서 살고 있습니다.
- 이주 이후 어떠한 활동을 하였나요?  
(가)

- ① 새로운 국가 건설에 참여하였습니다.
- ② 강남 지역에 관개 시설을 확충하였습니다.
- ③ 벼농사 기술을 원주민들에게 가르쳤습니다.
- ④ 야마토 정권의 안정을 위해 노력하였습니다.
- ⑤ 선비어를 사용하는 사람들을 단속하였습니다.

7. (가) 막부 시기에 동아시아에서 볼 수 있는 모습으로 가장 적절한 것은? [3점]

**동아시아사신문**

**집중 기획**      **센고쿠 시대의 전개**  
- 제1편 대분열의 서막 -

(가)의 쇼군 아시카가 요시마사는 아들이 없어 동생인 요시미를 후계자로 정하였다. 그런데 이듬해 아들인 요시히사가 태어난 이후 쇼군의 후계자 선정 문제를 둘러싸고 교토를 비롯한 전국 각지에서 동생을 지지하는 세력과 아들을 지지하는 세력 사이에 내란이 일어났다. 이를 계기로 쇼군의 권위가 실추되었으며 다이묘들이 각축을 벌이는 센고쿠 시대가 시작되었다.

- ① 홍루몽을 읽고 있는 상인
- ② 헤이조쿄 건설에 동원된 농민
- ③ 에도로 향하는 통신사의 수행원
- ④ 감합 무역을 감독하는 명의 관리
- ⑤ 몽골·고려 연합군과 싸우는 무사

8. (가) 국가에 대한 설명으로 옳은 것은?

아버지를 몰아내고 (가)의 선우 자리에 오른 목특은 유목 세계를 장악하고 만리장성 이남까지 침입하였다. 이에 맞서 한 고조는 직접 대군을 이끌고 출병하였다. 목특은 백등산에서 한 고조에게 치욕적인 패배를 안겼다.

- ① 별무반을 편성하였다.
- ② 분서갱유를 단행하였다.
- ③ 다이호 율령을 반포하였다.
- ④ 좌현왕과 우현왕을 두었다.
- ⑤ 평성에서 튀양으로 천도하였다.

9. (가), (나) 학문에 대한 설명으로 옳은 것은? [3점]

역사 인물 카드

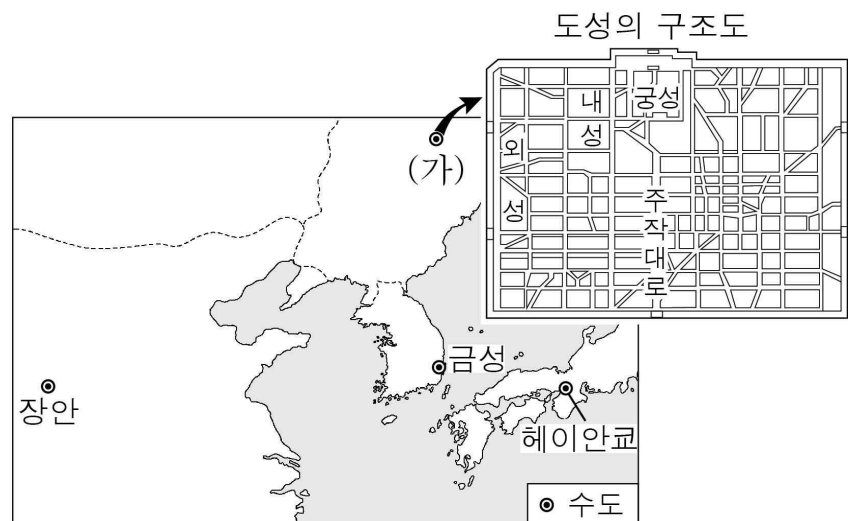
- 이름: 왕수인
- 주요 활동  
- 『전습록』 저술  
- 심즉리, 지행합일을 강조하는 (가) 집대성

역사 인물 카드

- 이름: 모토오리 노리나가
- 주요 활동  
- 『고사기전』 완성  
- 일본의 고전을 중시하는 (나) 집대성


- ① (가) - 서양 문물의 영향을 받아 형성되었다.
- ② (가) - 성리학에 대해 비판적 입장을 취하였다.
- ③ (나) - 시현력이 제작되는 기초가 되었다.
- ④ (나) - 공자, 맹자 시대 유학으로의 복귀를 추구하였다.
- ⑤ (가), (나) - 서원과 향약에 의해 확산되었다.

10. 지도에 나타난 시기에 (가) 도시에서 볼 수 있는 모습으로 가장 적절한 것은?



- ① 사서집주를 읽는 선비
- ② 주자감에서 공부하는 학생
- ③ 팔만대장경을 조판하는 장인
- ④ 제사를 주관하는 신기관 관리
- ⑤ 다이카 개신의 조칙을 선포하는 군주

11. 밑줄 친 '이 시기' 동아시아 문화에 대한 설명으로 옳은 것만을 <보기>에서 고른 것은?




왼쪽은 씨름하는 장면을 소재로 김홍도가 그린 풍속화이고, 오른쪽은 까치와 호랑이를 소재로 한 민화이다. 상공업 발달과 서당 보급 등의 영향으로 서민 문화가 발달한 이 시기에 서민의 생활상과 의식을 드러낸 풍속화와 민화가 유행하였다.

- < 보 기 >
- ㄱ. 한국 - 한글 소설이 유행하였다.
  - ㄴ. 중국 - 제자백가가 출현하였다.
  - ㄷ. 일본 - 분라쿠가 인기를 끌었다.
  - ㄹ. 베트남 - 대월사기가 저술되었다.

- ① ㄱ, ㄴ    ② ㄱ, ㄷ    ③ ㄴ, ㄷ    ④ ㄴ, ㄹ    ⑤ ㄷ, ㄹ

12. (가)에 들어갈 내용으로 가장 적절한 것은?



천계령이 해제된 이후 나가사키에서 나타난 변화를 이야기해 보자.

청 상인의 왕래가 늘어나면서 무역량이 급증하였다.

그로 인해 은 등의 유출이 심해져 막부는 (가)

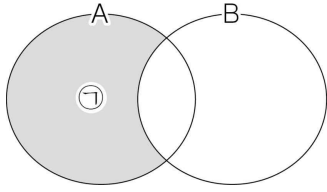
- ① 신패를 발급하였어.
- ② 역참을 설치하였어.
- ③ 기유약조를 체결하였어.
- ④ 지정은제를 시행하였어.
- ⑤ 데지마에 네덜란드 상관을 두었어.

13. (가)에 들어갈 내용으로 적절한 것은? [3점]

문제 은행 카드

- 집합 A, B를 다음과 같이 벤 다이어그램으로 표현했을 때 ㉠에 들어갈 내용을 작성하시오.

- A. 제1차 아편 전쟁을 종결짓기 위해 청과 영국 사이에 체결된 조약의 내용
- B. 페리 함대의 무력시위에 굴복하여 일본과 미국 사이에 체결된 조약의 내용



- 모범 답안: (가)

- ① 영토의 할양
- ② 외교권 박탈
- ③ 최혜국 대우 명시
- ④ 외국 군대의 수도 주둔 허용
- ⑤ 크리스티교 선교의 자유 인정

14. 밑줄 친 '군사적 침략' 이후 동아시아에서 일어난 사실로 옳은 것만을 <보기>에서 고른 것은? [3점]

일본 관동군은 류타오후 지역의 철도를 폭파하고 이를 중국 측의 소행이라 주장하며 군사적 침략을 감행하였다. 관동군은 점차 세력을 확대하여 이듬해에는 중국의 동북 지역을 장악하였고 푸이를 내세워 만주국을 수립하였다.

- < 보 기 >
- ㄱ. 제1차 국공 합작이 이루어졌다.
  - ㄴ. 일본이 국제 연맹을 탈퇴하였다.
  - ㄷ. 판보이쩌우가 동유 운동을 시작하였다.
  - ㄹ. 한국 독립군이 중국군과 연합 작전을 전개하였다.

- ① ㄱ, ㄴ    ② ㄱ, ㄷ    ③ ㄴ, ㄷ    ④ ㄴ, ㄹ    ⑤ ㄷ, ㄹ

15. 밑줄 친 ㉠, ㉡ 시기 사이에 있었던 사실로 옳은 것은? [3점]

쓰시마를 대신해서 외무성이 왜관을 담당하면서 '왜관'과 '관수'는 '대일본 공관'과 '관장'이 되었다. 이는 ㉠ 신정부가 수립되고 폐번치현이 단행된 이후 나타난 변화였다. 운요호 사건의 결과 ㉡ 조약이 체결되어 양국의 관계가 재편된 뒤에는 공관에 영사관이 개설되었고 관장을 대신해서 영사가 주재하게 되었다.

- ① 경인선이 개통되었다.
- ② 도쿄 대학이 설립되었다.
- ③ 옌푸가 천연론을 발간하였다.
- ④ 천황이 교육 칙어를 반포하였다.
- ⑤ 영국 상인에 의해 신보가 창간되었다.

16. (가), (나) 운동의 공통점으로 옳은 것은? [3점]



박은식

내 지인 중에 [가]의 내용을 상세히 알고 있는 사람이 있다. 김옥균 등의 일류 수재들이 일본인에게 이용당해 정변을 일으키는 착오를 저질렀으니, 참으로 애석한 일이라고 하였다.

나와 나의 스승 강유웨이는 황제의 지지를 바탕으로 [나]을/를 전개하였다. 그러나 8월의 변고로 우리는 외국으로 도피하였고, 조정은 완고한 무리로 가득 차게 되었다.



양치차오

- ① 동학 농민 운동 중에 전개되었다.
- ② 공화국이 수립되는 계기가 되었다.
- ③ 청일 전쟁이 일어나는 배경이 되었다.
- ④ 8개국 연합군의 개입으로 실패하였다.
- ⑤ 메이지 유신의 영향을 받아 추진되었다.

17. 밑줄 친 '이 회의'에 대한 설명으로 옳은 것은? [3점]

영국 외무 장관 커슨은 중국이 미국에서 열린 이 회의를 통해 얻은 이익에 대해 다음과 같이 말하였다. “중국은 세계 열강과 어깨를 나란히 하여 이 회의에 참여하였고, 그 결과 일본으로부터 산둥반도 등에 대한 이권을 돌려받게 되었다.”


- ① 한국의 독립을 최초로 약속하였다.
- ② 소련의 대일전 참전을 결정하였다.
- ③ 5·4 운동이 일어나는 데 영향을 주었다.
- ④ 일본이 주권을 회복하는 결과를 가져왔다.
- ⑤ 열강의 해군 군비 축소에 대해 논의하였다.

18. 다음 대화가 이루어진 시기를 연표에서 옳게 고른 것은?

[3점]

나는 미국 대통령으로서 중국이 당면한 문제가 베트남 전쟁 때문인지 소련과의 국경 분쟁 때문인지를 논의하고자 합니다.

대통령께서 당선된 이후 베트남 등에서 군대를 철수하고자 하는 뜻을 우리도 잘 알고 있습니다. 나는 공산당 주석으로서 우리가 국외에 파병할 생각이 없음을 밝혀 두는 바입니다.



(가)	(나)	(다)	(라)	(마)
포츠담 선언	일·화 국교 회복	한일 기본 조약 체결	파리 평화 협정 체결	플라자 합의 도출
	한·중 국교 수립			

- ① (가)    ② (나)    ③ (다)    ④ (라)    ⑤ (마)

19. (가), (나) 운동에 대한 설명으로 옳은 것은?

학습 주제: 헌법과 시민운동



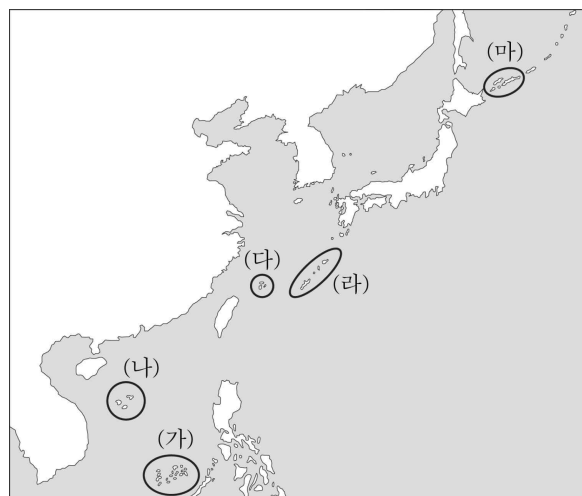

미일 안보 조약 개정이 신헌법(평화 헌법)의 정신에 위배된다며 [가]을/를 전개하는 시민들(1960).



군부 세력의 집권 연장을 막기 위해 대통령 직선제 개헌을 요구하며 [나]을/를 전개하는 시민들(1987).

- ① (가) - 홍위병이 주도하였다.
- ② (가) - 계엄령이 선포된 가운데 전개되었다.
- ③ (나) - 55년 체제의 붕괴로 이어졌다.
- ④ (나) - 전두환 정부에 대항하여 일어났다.
- ⑤ (가), (나) - 여야 간 정권 교체를 가져왔다.

20. 밑줄 친 '이 해역'을 지도에서 옳게 고른 것은?



- ① (가)    ② (나)    ③ (다)    ④ (라)    ⑤ (마)

\* 확인 사항

○ 답안지의 해당란에 필요한 내용을 정확히 기입(표기)했는지 확인하십시오.